

GAUTENGSE DEPARTEMENT VAN ONDERWYS
PROVINSIALE EKSAMEN
JUNIE 2016
GRAAD 10

EKONOMIE
(VRAESTEL 2)

NAAM VAN LEERDER: _____

GRAAD: _____

TYD: 1½ uur

PUNTE: 100

10 bladsye

**GAUTENGSE DEPARTEMENT VAN ONDERWYS
PROVINSIALE EKSAMEN**

**EKONOMIE
VRAESTEL 2**

Tyd: 1½ uur

Punte: 100

INSTRUKSIES EN INLIGTING

1. Beantwoord DRIE vrae soos volg in die ANTWOORDBOEK:

AFDELING A: VERPLIGTEND
AFDELING B: Beantwoord enige EEN van die twee vrae.
AFDELING C: Beantwoord enige EEN van die twee vrae.
2. Nommer die antwoorde volgens die nommeringstelsel wat in hierdie vraestel gebruik word.
3. Skryf die vraagnommer boaan elke antwoord neer.
4. Lees die vrae aandagtig deur en begin elke vraag op 'n NUWE bladsy.
5. Laat 2 – 3 reëls tussen onderafdelings van vrae oop.
6. Beantwoord die vrae in volsinne en maak seker dat die formaat, inhoud en konteks van jou antwoorde aan die vereistes van die vrae voldoen.
7. Beantwoord slegs die vereiste getal vrae. Addisionele antwoorde sal NIE nagesien word NIE.
8. Gebruik slegs blou ink.
9. Jy mag 'n nieprogrammeerbare sakrekenaar gebruik.
10. Skryf netjies en leesbaar.

AFDELING A (VERPLIGTEND)**VRAAG 1****(20 punte – 15 minute)**

- 1.1 Verskillende opsies word voorsien as moontlike antwoorde vir die volgende vrae. Kies die korrekte antwoord en skryf slegs die letter (A – C) langs die vraagnommer (1.1.1 – 1.1.5) in die ANTWOORDBOEK voorsien, neer.
- 1.1.1 Die bedrag geld wat verbruikers bereid is om vir 'n goed of diens op te offer, is bekend as ...
- A bevrediging.
 - B prys.
 - C waarde.
- 1.1.2 'n Produksiemoontlikheidskurwe met 'n reguit afwaartse helling dui 'n ... geleentheidskostekoers aan.
- A konstante
 - B veranderlike
 - C optimum
- 1.1.3 Regerings hef belasting ter wille van.....
- A inkomste.
 - B besteding.
 - C wins.
- 1.1.4 Die bevrediging wat 'n verbruiker kry uit die verbruik van goedere en dienste is bekend as...
- A nut.
 - B waarde.
 - C prys.
- 1.1.5 Indifferensie kurwe-ontleding word gebruik om ...
- A verbruikersvoorkeure te voorspel.
 - B 'n teoretiese verwantskap tussen verskillende verbruikersgoedere te toon.
 - C verskillende kombinasies van goedere en dienste in volgorde van voorkeure te rangskik.

(5 x 2) (10)

- 1.2 Kies 'n beskrywing in KOLOM B wat by die begrip in KOLOM A pas. Skryf slegs die letter (A – G) langs die vraagnommer (1.2.1 – 1.2.6) in die ANTWOORDBOEK neer.

KOLOM A		KOLOM B
1.2.1	Oligopolie	A Toon alternatiewe kombinasies van goedere wat 'n verbruiker teen gegewe pryse met 'n gegewe inkomste kan koop. B Deur die regering verskaf C Af-speling tussen twee produkte D Belasting wat gehef word op goedere wat die staat as onwenslik beskou E Oordragbetalings deur die staat F 'n Paar verkopers beheer die mark G 'n Studie van die gedrag van individuele besluitnemingseenhede
1.2.2	Begrotingslyn	
1.2.3	Sondebelasting	
1.2.4	Mikro-ekonomie	
1.2.5	Geleentheidskoste	
1.2.6	Openbare goedere	

(6 x 1) (6)

- 1.3 Gee EEN term vir elk van die volgende beskrywings. Skryf slegs die term/woord langs die vraagnommer (1.3.1 – 1.3.4) in die ANTWOORDBOEK neer.

- 1.3.1 Waar kopers en verkopers ontmoet om 'n prys en hoeveelheid vir goedere en dienste wat verkoop word te bepaal.
- 1.3.2 Die maksimum hoeveelheid bevrediging vir die bedrag spandeer.
- 1.3.3 Produkte wat in die plek van ander produkte gebruik kan word.
- 1.3.4 Goedere wat tot voordeel van almal beskikbaar gestel kan word.

(4x1) (4)

TOTAAL AFDELING A: 20

AFDELING B

Beantwoord enige EEN van die twee vrae uit hierdie afdeling in die ANTWOORDBOEK.

VRAAG 2: MIKRO-EKONOMIE

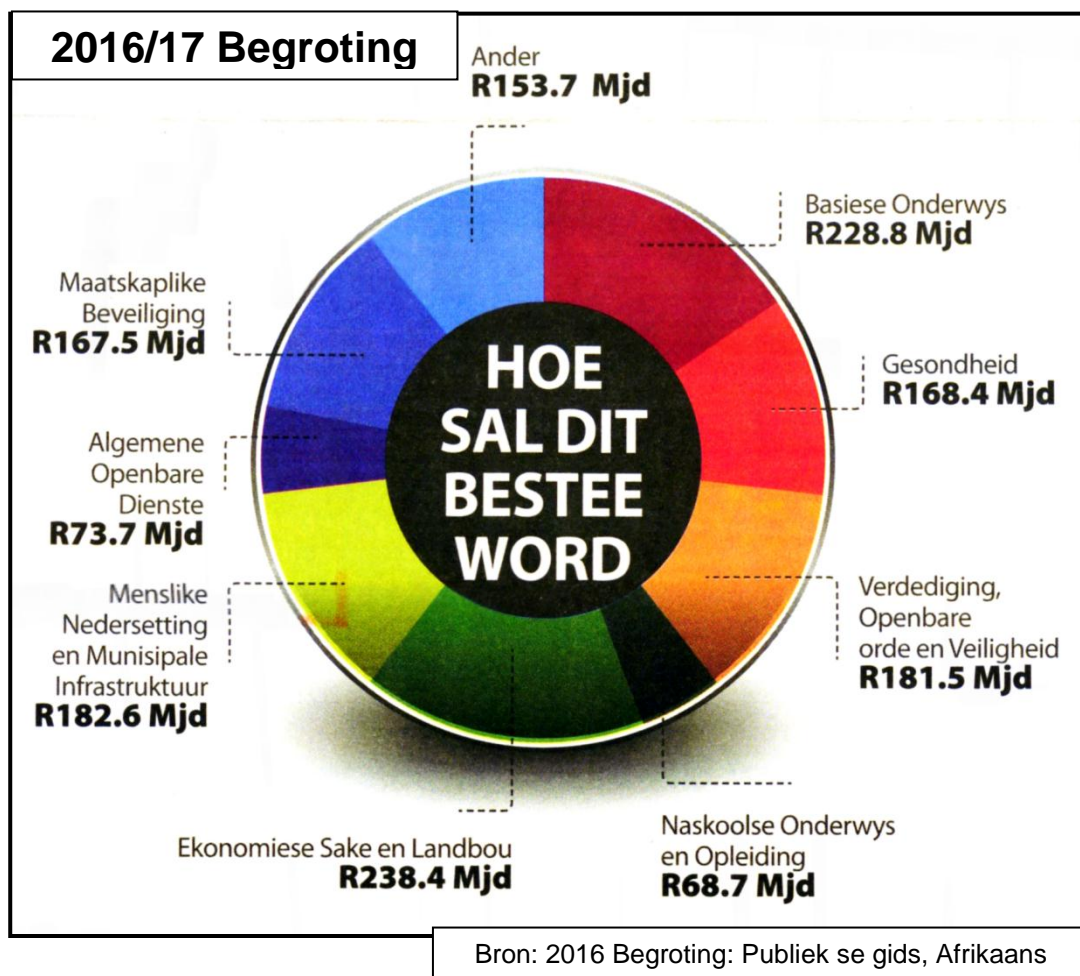
(40 punte – 30 minute)

2.1 Beantwoord die volgende vrae:

2.1.1 Noem enige TWEE redes vir die bestaan van onvolmaakte markte. (2x1) (2)

2.1.2 Beskryf kortliks die konsep van *gemeenskaplike goedere*. (1x2) (2)

2.2 Bestudeer die onderstaande diagram en beantwoord die vrae wat volg.




2.2.1 Watter diens het die grootste bedrag ontvang, volgens die diagram? (1)

2.2.2 Hoeveel het die regering aan welsynsdienste in die 2016/17 begroting spandeer? (1)

2.2.3 In 2016/17 was die totale owerheidsbesteding R1 463,30 Mjd. Bereken die persentasie wat op welsynsdienste spandeer is. (Toon ALLE berekeninge) (4)

2.2.4 Wat is die doel van welsynstoelaes? (2x2) (4)

2.3 Bestudeer die onderstaande spotprent en beantwoord die vrae wat volg:



[Bron : <https://en.wikipedia.org/wiki/Marketing>]

2.3.1 Watter tipe mark word in bogenoemde spotprent uitgebeeld? (1)

2.3.2 Gee 'n voorbeeld van so 'n mark in Suid-Afrika. (1)

2.3.3 Noem TWEE ander markstrukture behalwe vir die een in Vraag 2.3.1 genoem. (2)

2.3.4 Gee 'n rede vir jou antwoord in Vraag 2.3.1. (2)

2.3.5 Verduidelik hoe 'n tweede bakkery die dorp se inwoners sal bevoordeel. (2x2) (4)

2.4 Verduidelik wat bedoel word met *pareto doeltreffendheid* en hoe dit verband hou met *produktiewe – en allokeringdoeltreffendheid*. (4x2) (8)

2.5 Met behulp van 'n grafiek, illustreer hoe 'n subsidie op melk die melkprodusent en die verbruiker sal beïnvloed. (2x4) (8)

[40]

b.o.

VRAAG 3: MIKRO-EKONOMIE**(40 punte – 30 minute)**

3.1 Beantwoord die volgende vrae:

3.1.1 Noem enige TWEE gevolge van produktiewe ondoeltreffendheid. (2x1) (2)

3.1.2 Hoe sal 'n verhoging van sondebelaasting die prys van sigarette beïnvloed? (1x2) (2)

3.2 Bestudeer die onderstaande tabel en beantwoord die vrae wat volg.

Prys van kragopwekkers	Hoeveelheid gevra	Hoeveelheid aangebied
R12 000	1 500	3 000
R10 000	2 000	2 000
R8 000	2 500	1 500
R6 000	3 000	1 000
R4 000	3 500	500

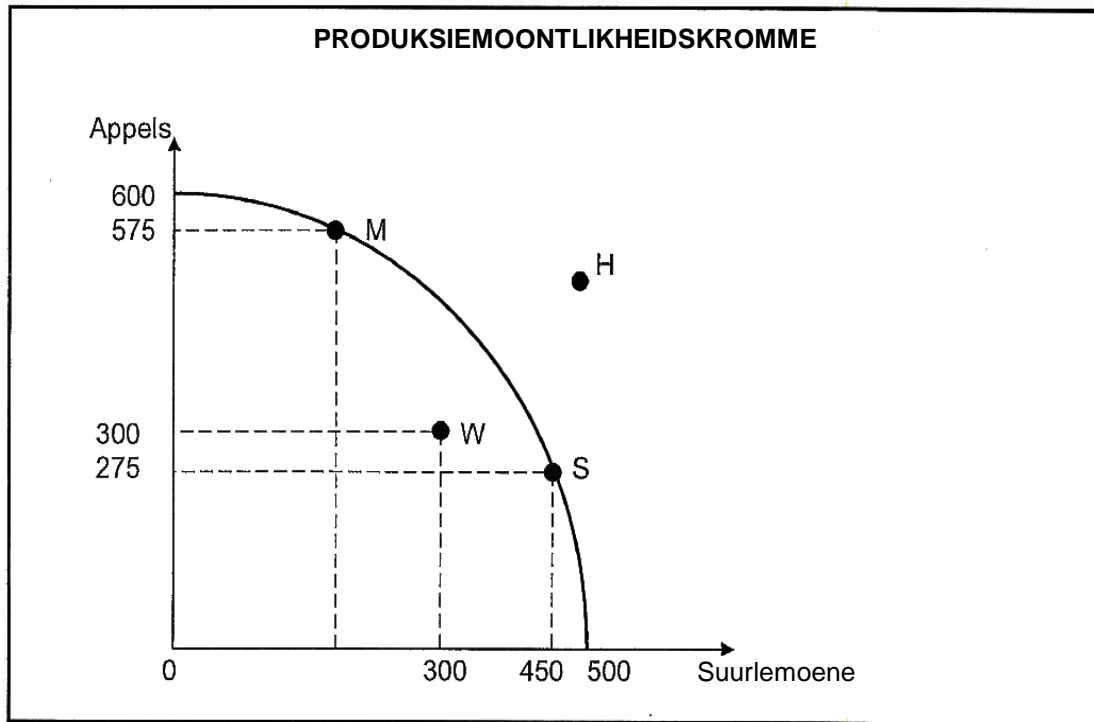
3.2.1 Teen watter prys is beide kopers en verkopers gelukkig? (1)

3.2.2 Wat word hierdie prys genoem? (1)

3.2.3 Gebruik die inligting in die tabel en teken 'n vraag- en aanbodkurwe op dieselfde assentel. (4)

3.2.4 Noem enige TWEE faktore wat die vraag na kragopwekkers sal verhoog. (2x2) (4)

3.3 Bestudeer die onderstaande grafiek en beantwoord die vrae wat volg.



- 3.3.1 Wat is die doel van die produksiemoontlikheidskurwe? (2)
- 3.3.2 Hoeveel appels kan geproduseer word indien al die hulpbronne gebruik word om appels te produseer? (2)
- 3.3.3 Is produksie by punt **H** moontlik? Motiveer jou antwoord. (3)
- 3.3.4 Watter punt dui ontoeltreffendheid aan? Motiveer jou antwoord. (3)
- 3.4 Bespreek kortliks enige TWEE funksies van markte. (2x4) (8)
- 3.5 Onderskei tussen enige TWEE gemeenskaplike funksies van indifferensiekurwes. (2x4) (8)
- [40]**

TOTAAL AFDELING B: 40

VRAAG 5: MIKRO-EKONOMIE**(40 punte – 40 minute)**

“Een van die maniere om armoede in Suid-Afrika te bekamp, is om minimumlone af te dwing”.

- Ontleed hierdie stelling krities deur te verwys na die redes vir die implementering en die impak van die minimumlone in Suid-Afrika. Verwys na die voordele en nadele van minimumlone in Suid-Afrika. (26)
- Met behulp van 'n goed benoemde grafiek verduidelik die uitwerking van minimumlone op die arbeidsmark. (10)

[40]**TOTAAL AFDELING C: 40****TOTAAL: 100****EINDE**