

GAUTENGSE DEPARTEMENT VAN ONDERWYS
PROVINSIALE EKSAMEN
JUNIE 2016
GRAAD 10

EKONOMIE
(VRAESTEL 1)

TYD: 1½ uur

PUNTE: 100

9 bladsye

**GAUTENGSE DEPARTEMENT VAN ONDERWYS
PROVINSIALE JUNIE EKSAMEN**

**EKONOMIE
(VRAESTEL 1)**

TYD: 1½ uur

PUNTE: 100

INSTRUKSIES EN INLIGTING:

1. Beantwoord DRIE vrae soos volg in die ANTWOORDBOEK:

AFDELING A: VERPLIGTEND
AFDELING B: Beantwoord enige EEN van die TWEE vrae.
AFDELING C: Beantwoord enige EEN van die TWEE vrae.
2. Nommer die antwoorde korrek volgens die nommeringstelsel wat in hierdie vraestel gebruik word.
3. Skryf die vraagnommer bo-aan elke antwoord neer.
4. Lees die vrae aandagtig deur en begin elke vraag op 'n NUWE bladsy.
5. Laat 2 – 3 reëls tussen onderafdelings van vrae oop.
6. Beantwoord die vrae in volsinne en maak seker dat die formaat, inhoud en konteks van jou antwoorde aan die kognitiewe vereistes van die vrae voldoen.
7. Beantwoord slegs die vereiste getal vrae. Addisionele antwoorde sal NIE nagesien word NIE.
8. Gebruik slegs blou ink.
9. Jy mag 'n nie-programmeerbare sakrekenaar gebruik.
10. Skryf netjies en leesbaar.

AFDELING A**(VERPLIGTEND)****VRAAG 1****1.1 MEERVOUDIGE KEUSE VRAE****20 PUNTE – 15 MINUTE**

Verskeie opsies word as moontlike antwoorde op die volgende vrae gegee. Kies die antwoord en skryf slegs die letter (A – C) langs die vraagnommer (1.1.1 – 1.1.5) in die ANTWOORDEBOEK neer.

1.1.1 Ekonomie is 'n sosiale wetenskap wat bestudeer hoe ...

- A. mense hul onbeperkte behoeftes en begeertes bevredig met beperkte middele.
- B. mense hulle beperkte behoeftes en begeertes bevredig met onbeperkte middele.
- C. mense hulle onbeperkte behoeftes en begeertes bevredig met onbeperkte middele.

1.1.2 Die skaarsheidsprobleem in Ekonomie word aangespreek deur ...

- A. seker te maak dat ons alles wat ons wil hê produseer en verbruik.
- B. almal se behoeftes en begeertes te bevredig met die beskikbare hulpbronne.
- C. die samelewing te forseer om keuses te maak tussen gegewe alternatiewe.

1.1.3 Wat sal lei tot 'n toename in besteding van huishoudings?

- A. 'n Afname in die inkomstebelastingkoers.
- B. 'n Toename in die werkloosheidskoers.
- C. 'n Toename in die rentekoers.

1.1.4 Die Bruto Nasionale Inkomste gee ons 'n maatstaf van die ...

- A. inkomste verdien deur die buitelanders wat in Suid-Afrika en in die buiteland werk.
- B. inkomste verdien deur Suid-Afrikaanse burgers in Suid-Afrika.
- C. inkomste verdien deur Suid-Afrikaners in Suid-Afrika en elders in die wêreld.

1.1.5 Die laagste draaipunt van die sakesiklus is 'n ...

- A. resessie.
- B. trog.
- C. depressie.

(5x2) (10)

1.2 PAARITEMS

Kies 'n beskrywing uit KOLOM B wat by 'n item in KOLOM A pas. Skryf slegs die letter (A – G) langs die vraagnommer (1.2.1 – 1.2.6) in die ANTWOORDEBOEK neer.

KOLOM A	KOLOM B
1.2.1 Hulpbronne	A. Groep mense wat saam woon en ekonomiese besluite neem. B. Verwys na die periode van dalende ekonomiese aktiwiteite met 'n toename in werkloosheid. C. Besparings en invoere. D. Dinge wat gebruik kan word om 'n sekere doel te bereik. E. Vervaardig en verwerk grondstowwe, sodat dit in 'n geskikte vorm vir verbruik kan wees. F. Wys vir ons wat kan gebeur met ekonomiese aktiwiteite in die toekoms. G. Al die kragte wat ontstaan binne die ekonomie wat die sakesiklus beïnvloed.
1.2.2 Sekondêre	
1.2.3 Lekkasies	
1.2.4 Leidende	
1.2.5 Resessie	
1.2.6 Huishoudings	

(6x1) (6)

1.3 TERMINOLOGIE

Gee die korrekte term vir elk van die volgende beskrywings. Skryf slegs die term langs die vraagnommer (1.3.1 – 1.3.4) in die ANTWOORDEBOEK neer.

1.3.1 Die proses waardeur die entrepreneur beskikbare hulpbronne kombineer

1.3.2 Waar alle ander faktore dieselfde bly

1.3.3 Goedere wat gratis is en geen prys het nie

1.3.4 Tye wanneer daar geen groei is nie

(4x1) (4)

TOTAAL AFDELING A: 20

AFDELING B

Beantwoord EEN van die twee vrae in die afdeling in jou ANTWOORDEBOEK.

VRAAG 2: MAKRO-EKONOMIE

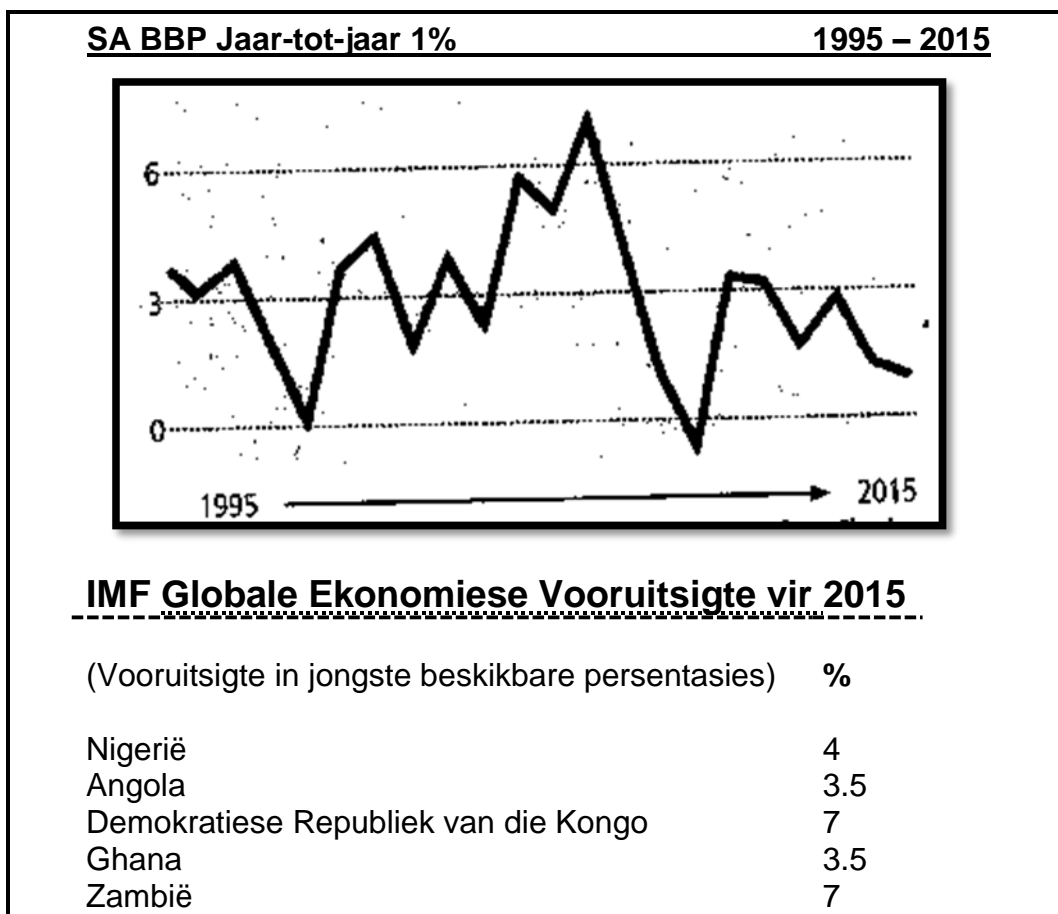
40 PUNTE – 30 MINUTE

2.1 Beantwoord die volgende vrae.

2.1.1 Noem enige TWEE produksiefaktore. (2x1) (2)

2.1.2 Verduidelik die term *ekonomiese goedere* (1x2) (2)

2.2 Bestudeer die onderstaande diagram en beantwoord die volgende vrae:



Bron: *The Star, Business Report*, Woensdag, 10 Februarie 2016

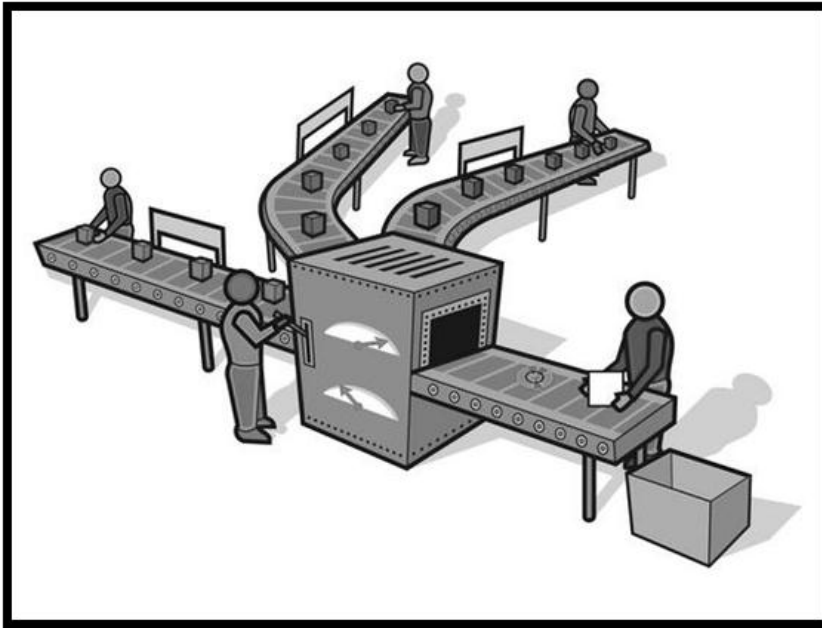
2.2.1 Noem die land met die laagste BBP persentasie in 2015. (1)

2.2.2 Suid-Afrika se BBP is op 'n baie swak groeitempo van 0.7% vir die jaar 2015. Gee EEN rede vir hierdie swak groei. (1)

2.2.3 Skryf enige TWEE redes waarom die IMF se BBP berekeninge belangrik is. (4)

2.2.4 Onderskei tussen die *BBP* en *Ekonomiese Groei*. (2x2) (4)

2.3 Bestudeer die onderstaande prent en beantwoord die vrae wat volg.



Bron: <http://manpowersolutions.in/wp-content/uploads/2015/11/manufacture.jpg>

- 2.3.1 Watter tipe ekonomiese proses word voorgestel deur die prent? (1)
- 2.3.2 Verduidelik wat bedoel word met die term *spesialisasie van arbeid*. (1)
- 2.3.3 Verduidelik kortliks wat die klassifikasie van die ekonomiese proses geïdentifiseer in VRAAG 2.3.1 is. (4)
- 2.3.4 Bespreek die toestande wat nodig is in markte vir ruil om te kan plaasvind. (4)
- 2.4 Differensieer tussen *makro-ekonomie* en *mikro-ekonomie*. (2x4) (8)
- 2.5 “Ekonomiese ontwikkeling gaan nie net oor die produksie van goedere en dienste nie.”
Evalueer hierdie stelling deur te verwys na hoe ekonomiese kwessies menseregte beïnvloed. (4x2) (8)
- [40]**

VRAAG 3: MAKRO-EKONOMIE

40 PUNTE – 30 MINUTE

3.1 Beantwoord die volgende vrae.

3.1.1 Noem enige TWEE voorbeelde van monetêre vloei in die ekonomiese kringloop model. (2x1) (2)

3.1.2 Hoe word sakesiklusse gemeet? (1x2) (2)

3.2 Bestudeer die onderstaande inligting en beantwoord die vrae wat volg.

Lot van die mensdom rus op Ekonomie

Thabo Mbeki, wat 'n graad in Ekonomie het, het die oproep van Fidel Castro vir politici om Ekonomie te studeer aangehaal. Hy het gesê dat politieke leiers Ekonomie moet studeer ten einde die probleem van gelykheid, volhoubare ontwikkeling en menslike beveiliging op te los.

Ekonomie is die basis waarop die lot van die mensdom rus. Dit is ook die basis waaruit ons stryd om gelykheid begin. Mbeki het gesê dat politici wat nie Ekonomie wil verstaan of wil ken nie, nie waardig is om hul pligte uit te oefen in bestuur nie.

Bron: Sunday Argus

3.2.1 Definieer die term *Ekonomie*. (2)

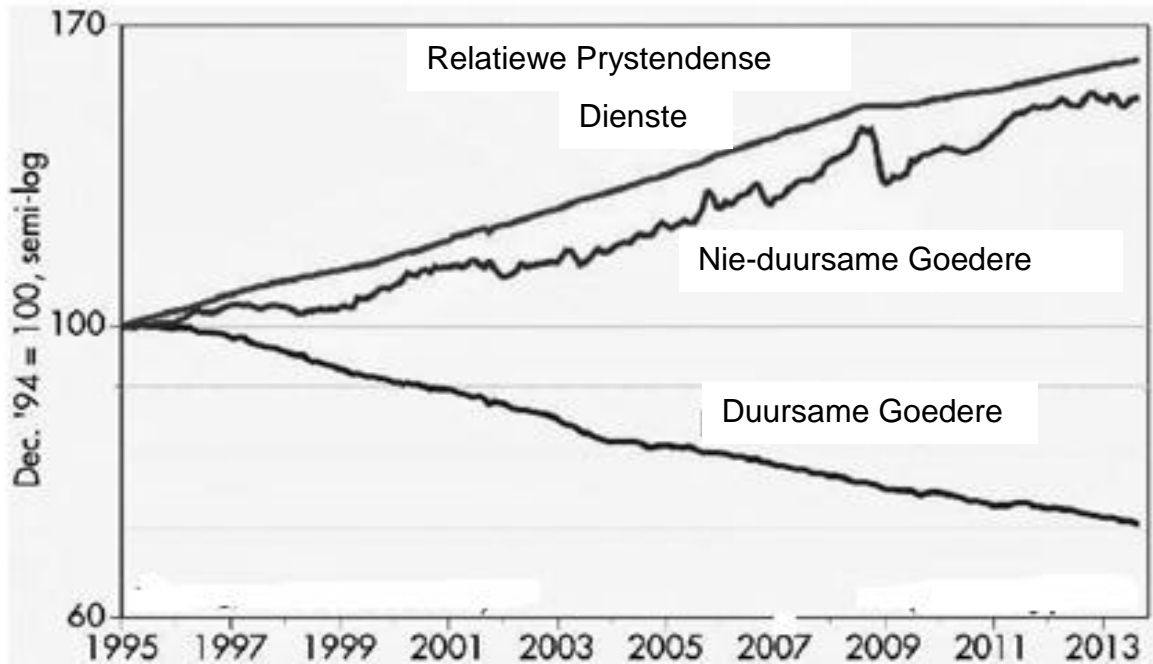
3.2.2 Na aanleiding van die uittreksel, hoekom moet politieke leiers Ekonomie bestudeer? (1)

3.2.3 Noem EEN loopbaan in die gebied van Ekonomie. (1)

3.2.4 Waarom gebruik ekonome teorieë en modelle? (2)

3.2.5 Verduidelik die probleme waarmee die sosiale wetenskappe gekonfronteer word. (4)

3.3 Bestudeer die onderstaande grafiek en beantwoord die vrae wat volg.



Bron: *Buro vir Ekonomiese Ontleding, scottgrannis.blogspot.com*

- 3.3.1 Noem TWEE voorbeelde van nie-duursame goedere (2x1) (2)
- 3.3.2 Hoekom dui die kurwe van nie-duursame goedere 'n opwaartse neiging van 1995 – 2013? (2)
- 3.3.3 Na jou mening, wat kan deur die regering gedoen word om die probleem van voortdurende styging in prysvlakke te verlig? (2)
- 3.3.4 Vergelyk semi-duursame goedere en duursame goedere as deel van besteding deur verbruikers/huishoudings. (2x2) (4)
- 3.4 Verduidelik lekkasies en insputings in die ekonomiese kringloop. (2x4) (8)
- 3.5 Verduidelik die impak van veranderinge in prysvlakke en veranderinge in indiensneming as gevolg van sakesiklusse. (2x4) (8)

[40]

TOTAAL AFDELING B: 40

